

JMS TECNOLOGIA E SERVIÇOS LTDA

SÓ ABRA QUANDO AUTORIZADO

INSTRUÇÕES

Esta prova contém 20 questões de múltipla escolha.

AO RECEBÊ-LA, VERIFIQUE A SEQUÊNCIA NUMÉRICA DAS QUESTÕES.

Caso esteja incompleto, comunique imediatamente ao fiscal de sala para que este tome as medidas cabíveis.

As respostas deverão ser CIRCULADAS, de forma clara e a caneta.


- Circule somente uma alternativa em cada questão.
- A prova deverá ser entregue ao Fiscal de Prova. Antes de entregar, verifique se todas as questões estão com resposta e à caneta.
 - Sua resposta não será computada se houver marcação indevida.
- Em caso de rasura, respostas em branco ou a lápis, a questão será desconsiderada.
- Leia, com atenção, cada questão da prova e não deixe nenhuma sem resposta.
 - Faça a prova com calma.
 - Duração desta prova: Três horas.

Boa Sorte!

Nº INSCRIÇÃO:
NOME DO CANDIDATO:
ASSINATURA:

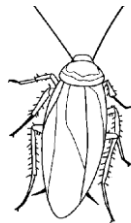

QUESTÃO 01

Circule a imagem que **não** representa uma prática de higiene.



QUESTÃO 02

Circule o animal que está inserido na classe dos **mamíferos**.



QUESTÃO 03

Uma empresa que produz chinelos recebeu uma encomenda para confecção de 500 pares. Já foram produzidos 175. Quantos pares de chinelos a empresa ainda precisa fazer para completar a encomenda?

325

350

335

375

QUESTÃO 04

Partindo do pressuposto de que cada criança equivale a 3 pontos e cada adulto a 5, teremos ao final um somatório de quantos pontos?



48




52

37

47

QUESTÃO 05

Marque o relógio que está marcando 12:45 hs.



QUESTÃO 06

Maria quer dar R\$ 5,00 para cada um de seus filhos, porém só possui uma nota de R\$ 50,00. Quantas notas de R\$ 5,00 Maria precisará para trocar os R\$ 50,00?

5


50

20

10

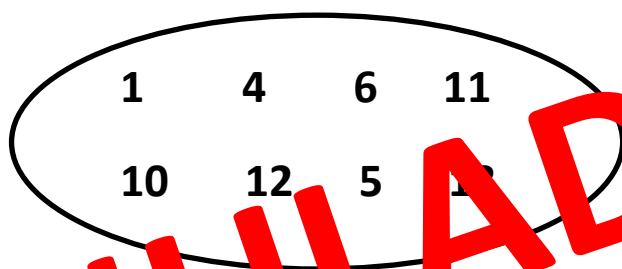
QUESTÃO 07

Circule a imagem que faz referência ao futebol.



QUESTÃO 08

Se somarmos os números maiores que “5” e menores que “13”, obteremos um número:



IMPAR MENOR QUE 40

PAR MAIOR QUE


PAR MENOR QUE

IMPAR MAIOR QUE

ANULADA

QUESTÃO 09

Considerando que cada fruta deste pé de laranja consegue fazer 100 ml de suco, qual volume obteremos se forem utilizadas todas do pé abaixo?



900 ml

1000 ml

1,2 litros

1,4 litros

QUESTÃO 10

Fui ao supermercado e comprei 6 mangas. No meio do caminho comi 1, meu pai comeu 2 e uma outra caiu no chão e estourou. Com quantas mangas eu e meu pai chegamos em casa? Circule a resposta correta:

4


6

1

2



QUESTÃO 11

Circule o símbolo que é utilizado para demonstrar o sexo feminino.



QUESTÃO 12

Circule a imagem cuja quantidade de maçãs é o triplo da imagem abaixo:



QUESTÃO 13

Marque a imagem que podemos identificar uma da estação do ano, a primavera.



QUESTÃO 14

Qual das frutas abaixo não é tipicamente brasileira?



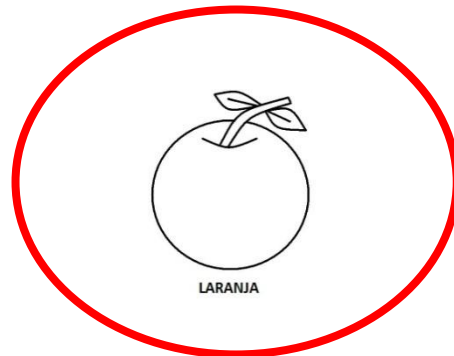
ABACAXI



CAJU




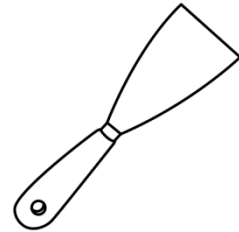

MARACUJÁ



LARANJA

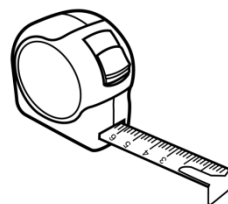

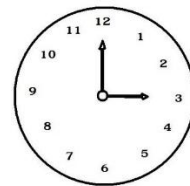
QUESTÃO 15

Qual dos objetos abaixo não é utilizado pelo profissional da área da pintura?





QUESTÃO 16

Qual dos objetos abaixo não é usado para medir?





QUESTÃO 17

São imprescindíveis para a segurança do profissional que trabalha na construção civil, exceto:



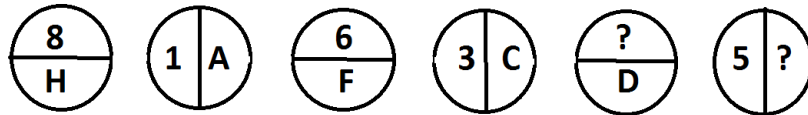
QUESTÃO 18

Todas as imagens abaixo nos remetem a profissão do carpinteiro, exceto:

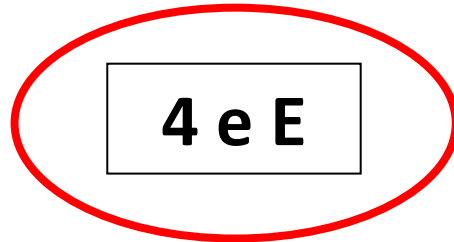


QUESTÃO 19

A sequência demonstrada abaixo está formada a partir de uma regra lógica. As duas interrogações estão substituindo, respectivamente, um número e uma letra que são:



10 e E






4 e E

6 e H

4 e D

QUESTÃO 20

Complete o sentido da frase:

 está para , assim como  está para ...

