

# JMS TECNOLOGIA E SERVIÇOS LTDA

*SÓ ABRA QUANDO AUTORIZADO*

## AUXILIAR DE SERVIÇOS

### INSTRUÇÕES

Esta prova contém 20 questões de múltipla escolha.

**AO RECEBÊ-LA, VERIFIQUE A SEQUÊNCIA NUMÉRICA DAS QUESTÕES.**

Caso esteja incompleto, comunique imediatamente ao fiscal de sala para que este tome as medidas cabíveis.

As respostas deverão ser CIRCULADAS, de forma clara e a caneta.

- Circule somente uma alternativa em cada questão.
- A prova deverá ser entregue ao Fiscal de Prova. Antes de entregar, verifique se todas as questões estão com resposta e à caneta.
  - Sua resposta não será computada se houver marcação indevida.
- Em caso de rasura, respostas em branco ou a lápis, a questão será desconsiderada.
- Leia, com atenção, cada questão da prova e não deixe nenhuma sem resposta.
  - Faça a prova com calma.
  - Duração desta prova: Três horas.

Boa Sorte!

|                           |
|---------------------------|
| <b>Nº INSCRIÇÃO:</b>      |
| <b>NOME DO CANDIDATO:</b> |
| <b>ASSINATURA:</b>        |

### QUESTÃO 01

Circule a mulher que está com a mão na cintura e de vestido.



### QUESTÃO 02



Considerando que as pessoas na imagem acima estão em uma escada, quantos degraus há entre a primeira e a última?

**06**


**03**

**04**

**05**



**QUESTÃO 03**

Circule o objeto que NÃO representa um instrumento musical:




**QUESTÃO 04**

Circule o conjunto que tem EXATAMENTE quatro elementos.



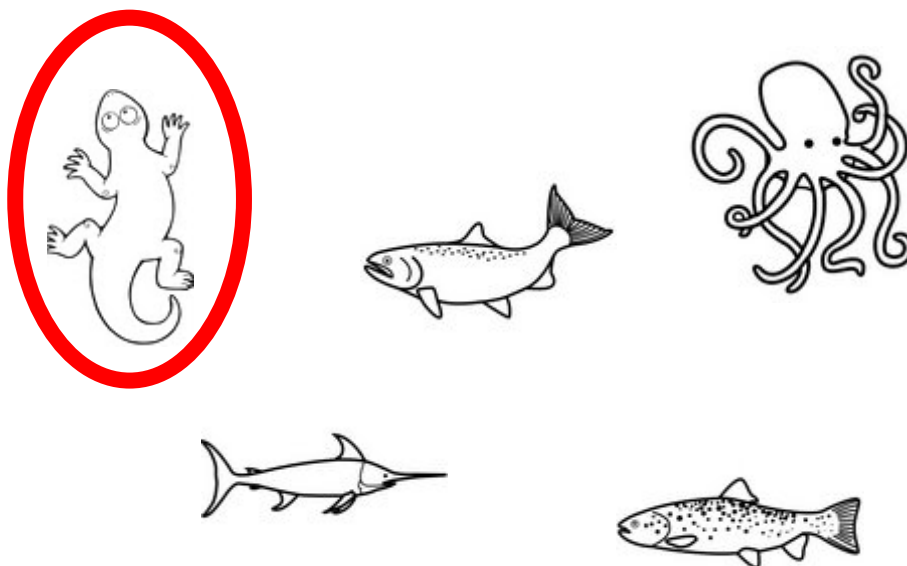
QUESTÃO 05

Circule o rosto que demonstra ESPANTO.



QUESTÃO 06

Circule o animal que NÃO é aquático.



QUESTÃO 07


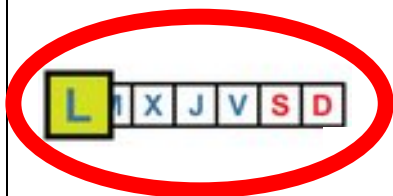
Circule a imagem cuja paisagem está RELAMPEJANDO.



QUESTÃO 08




Circule a tira cuja letra em destaque é a inicial da imagem acima.




QUESTÃO 09

Circule a opção cuja figura NÃO representa um inseto.



QUESTÃO 10

Circule o rosto que demonstra DÚVIDA.



QUESTÃO 11

Circule o brasão de um time de futebol MINEIRO.



QUESTÃO 12



Quantos números "4" tem na imagem acima?

0

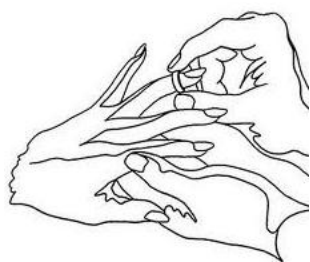

4

3

6


### QUESTÃO 13

Circule a imagem que NÃO tem relação com matrimônio.



### QUESTÃO 14

Circule a imagem em que há uma pessoa RECEBENDO a bola.






### QUESTÃO 15



Circule o personagem que está faltando na cena acima.



### QUESTÃO 16



Qual dos fragmentos abaixo NÃO pertence à imagem acima?




QUESTÃO 17

Circule o símbolo que representa porcentagem.

&

\*




\$

@

#

QUESTÃO 18

Quantas pessoas tem na imagem abaixo?



51

48


58

50

### QUESTÃO 19



Circule a imagem abaixo exatamente IGUAL à imagem acima:



### QUESTÃO 20

Circule o objeto que NÃO é usado para medir.

