

GABARITO OFICIAL

OPERADORES DE MÁQUINAS


- Retroescavadeira

QUESTÃO 01

Dentre as placas abaixo, circule a que NÃO representa limite de altura, largura ou de peso :



ANULADA



QUESTÃO 02

Circule o atleta que está na extremidade direita e com os dois punhos fechados e apontados para sua própria cabeça.



QUESTÃO 03


Circule o conjunto de moedas que somam R\$ 3,75




QUESTÃO 04

Considerando que estamos no turno da manhã, circule o relógio


Que está marcando o horário mais cedo.



QUESTÃO 05

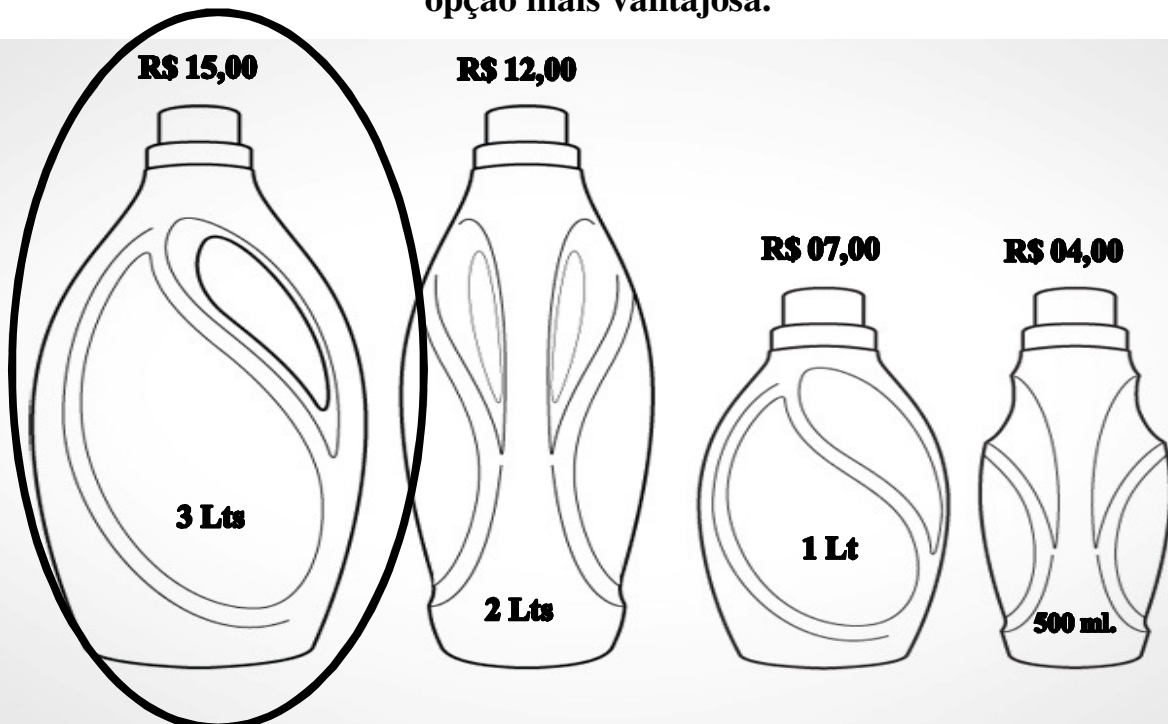


Circule a próxima figura que completa a seqüência acima:



QUESTÃO 06

Considerando os preços e as embalagens dos amaciantes abaixo, circule a opção mais vantajosa.



QUESTÃO 07

Fiz uma compra de R\$ 76,00 e paguei com uma nota de R\$ 100,00.

Circule abaixo o troco que devo receber:



QUESTÃO 08

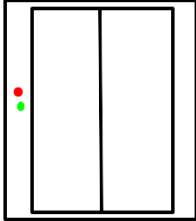
Circule a imagem que está na terceira coluna da terceira linha:



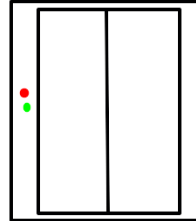
QUESTÃO 09

Circule o elevador no qual devo entrar para ir ao 10º andar:

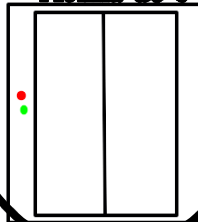
**Andares Pares
até o 6º**



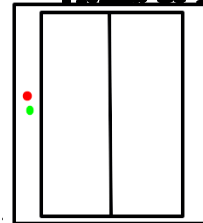
**Andares Impares
até o 9º**



**Andares Pares
Acima do 6º**



**Andares Ímpares
Acima do 9º**




QUESTÃO 10

Circule a terceira criança que está na fila atrás da professora.



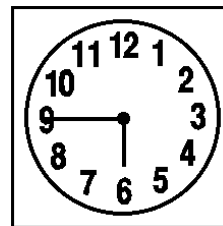

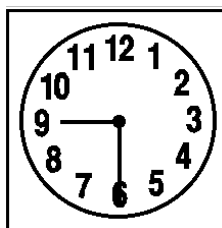

QUESTÃO 11

Dentre as cartas abaixo, escolhi uma que está no centro do baralho abaixo. Minha carta é maior do que 2 e menor do que 6. Circule a minha carta.



QUESTÃO 12

Sai de casa às 12 horas e quando retornei, o ponteiro dos minutos haviam dado 6 volta e meia. Circule o relógio que representa o horário em que cheguei em casa:



QUESTÃO 13

Ao esquecer minha senha de email, o sistema forneceu as seguintes dicas: Letras entre “D” e “J” alternadas por números ímpares entre “2” e 10. Então, minha senha é:

F3G4H5I8J

E3F5G7H9I

D3E5F8G9H

E2F5G7HJ

QUESTÃO 14



Considerando que ainda é dia, a diferença do fuso horário dos Estados Unidos em relação ao Brasil é de:

1 hora

1 hora

a mais

a menos

2 horas


2 horas

a menos

a mais

QUESTÃO 15

Circule a seta que está apontando para cima:



QUESTÃO 16

Considerando que ainda não chegamos à metade do dia, circule o relógio que está marcando o horário mais avançado.



QUESTÃO 17

Circule a imagem que representa a Copa do Mundo de Futebol no Brasil em 2014.



QUESTÃO 18

Circule a operação cujo resultado é diferente das demais operações.

$$13+05-06+08$$

$$35-12-03$$

$$05+02+03+10$$

$$18+09-06-03$$

QUESTÃO 19

Precisamos encontrar uma pessoa do sexo masculino que está subindo o quinto lance das escadas. Circule a pessoa procurada.



QUESTÃO 20

Circule o profissional que está pintando a parede no segundo andar da casa.

