


# **GABARITO OFICIAL**

## **OPERADORES DE MÁQUINAS** **- Retroescavadeira**


### QUESTÃO 01

Dentre as placas abaixo, circule a que NÃO representa limite de altura, largura ou de peso :



### QUESTÃO 02

Circule o atleta que está na extremidade direita e com os dois punhos fechados e apontados para sua própria cabeça.



### QUESTÃO 03

Circule o conjunto de moedas que somam R\$ 3,75




### QUESTÃO 04

Considerando que estamos no turno da manhã, circule o relógio


Que está marcando o horário mais cedo.



**QUESTÃO 05**

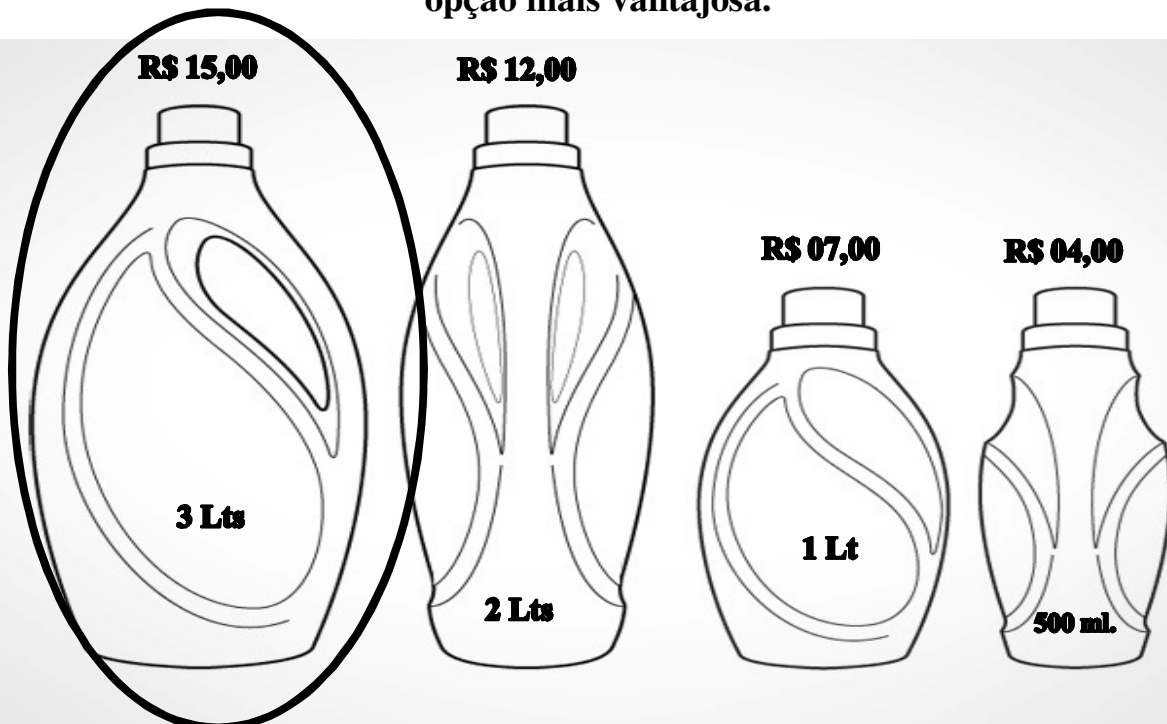


**Circule a próxima figura que completa a seqüência acima:**



**QUESTÃO 06**

**Considerando os preços e as embalagens dos amaciantes abaixo, circule a opção mais vantajosa.**



**QUESTÃO 07**

**Fiz uma compra de R\$ 76,00 e paguei com uma nota de R\$ 100,00.**

**Circule abaixo o troco que devo receber:**



**QUESTÃO 08**

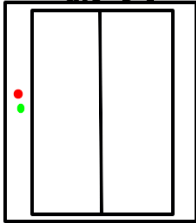
**Circule a imagem que está na terceira coluna da terceira linha:**



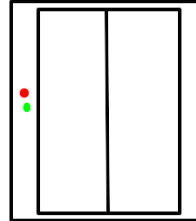
**QUESTÃO 09**

**Circule o elevador no qual devo entrar para ir ao 10º andar:**

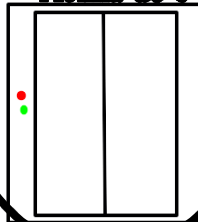
**Andares Pares  
até o 6º**



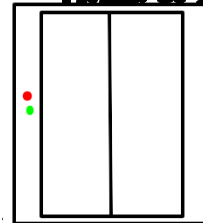
**Andares Impares  
até o 9º**



**Andares Pares  
Acima do 6º**



**Andares Ímpares  
Acima do 9º**




**QUESTÃO 10**

**Circule a terceira criança que está na fila atrás da professora.**



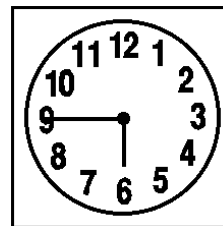

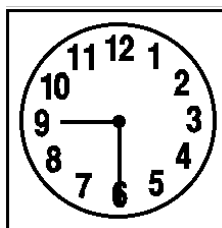

### QUESTÃO 11

Dentre as cartas abaixo, escolhi uma que está no centro do baralho abaixo. Minha carta é maior do que 2 e menor do que 6. Circule a minha carta.



### QUESTÃO 12

Sai de casa às 12 horas e quando retornei, o ponteiro dos minutos haviam dado 6 volta e meia. Circule o relógio que representa o horário em que cheguei em casa:



### QUESTÃO 13

Ao esquecer minha senha de email, o sistema forneceu as seguintes dicas: Letras entre “D” e “J” alternadas por números ímpares entre “2” e 10. Então, minha senha é:

**F3G4H5I8J**

**E3F5G7H9I**

**D3E5F8G9H**

**E2F5G7HJ**

### QUESTÃO 14



Considerando que ainda é dia, a diferença do fuso horário dos Estados Unidos em relação ao Brasil é de:

**1 hora**

**a mais**

**1 hora**

**a menos**

**2 horas**

**a menos**


**2 horas**

**a mais**



### QUESTÃO 15

Circule a seta que está apontando para cima:



### QUESTÃO 16

Considerando que ainda não chegamos à metade do dia, circule o relógio que está marcando o horário mais avançado.



**QUESTÃO 17**

**Circule a imagem que representa a Copa do Mundo de Futebol no Brasil em 2014.**



**QUESTÃO 18**

**Circule a operação cujo resultado é diferente das demais operações.**

$$13+05-06+08$$

$$35-12-03$$

$$05+02+03+10$$

$$18+09-06-03$$

### QUESTÃO 19

Precisamos encontrar uma pessoa do sexo masculino que está subindo o quinto lance das escadas. Circule a pessoa procurada.



### QUESTÃO 20

Circule o profissional que está pintando a parede no segundo andar da casa.

