

# JMS TECNOLOGIA E SERVIÇOS LTDA

*SÓ ABRA QUANDO AUTORIZADO*

## MOTORISTA

### INSTRUÇÕES

Esta prova contém 20 questões de múltipla escolha.

**AO RECEBÊ-LA, VERIFIQUE A SEQUÊNCIA NUMÉRICA DAS QUESTÕES.**

Caso esteja incompleto, comunique imediatamente ao fiscal de sala para que este tome as medidas cabíveis.

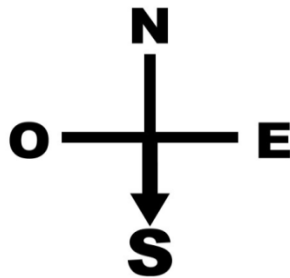
As respostas deverão ser CIRCULADAS, de forma clara e a caneta.

- Circule somente uma alternativa em cada questão.
- A prova deverá ser entregue ao Fiscal de Prova. Antes de entregar, verifique se todas as questões estão com resposta e à caneta.
  - Sua resposta não será computada se houver marcação indevida.
- Em caso de rasura, respostas em branco ou a lápis, a questão será desconsiderada.
- Leia, com atenção, cada questão da prova e não deixe nenhuma sem resposta.
  - Faça a prova com calma.
  - Duração desta prova: Três horas.

Boa Sorte!

<b>Nº INSCRIÇÃO:</b>
<b>NOME DO CANDIDATO:</b>
<b>ASSINATURA:</b>

### QUESTÃO 01



Considerando que “N” significa Norte, “E” significa leste, “S” significa Sul e “O” significa oeste, a seta acima está apontando para:

**SUL**

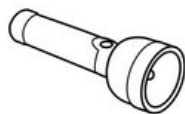
**NORTE**

**LESTE**

**OESTE**

### QUESTÃO 02

Circule o único objeto que não precisa de energia elétrica para iluminar.




### QUESTÃO 03

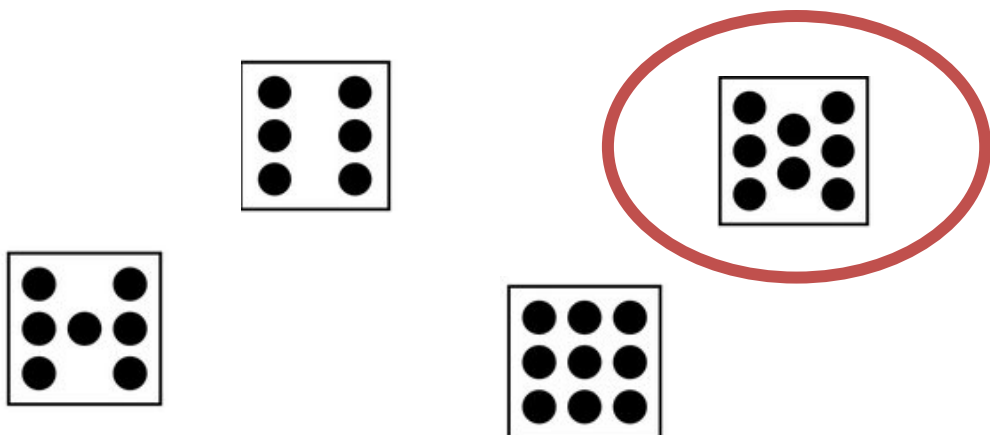
Circule o sinal que usamos no final de uma PERGUNTA:



### QUESTÃO 04




Circule a imagem cuja quantidade de bolinhas é o DOBRO da imagem acima.



### QUESTÃO 05

Qual dos profissionais abaixo é responsável pela SEGURANÇA?



### QUESTÃO 06

Circule a opção cuja planta é característica do deserto:



QUESTÃO 07



Considerando que cada vela do bolo acima representa meia dúzia de anos, qual a idade do aniversariante?

45

09

108

90

54


QUESTÃO 08

Circule figura diferente das DEMAIS.



### QUESTÃO 09

Circule a imagem que corresponde a um VOLANTE de carro.



### QUESTÃO 10

Circule a pessoa que está fantasiada de ÍNDIO:



### QUESTÃO 11

Circule o relógio que está marcando 11 horas e quarenta minutos.

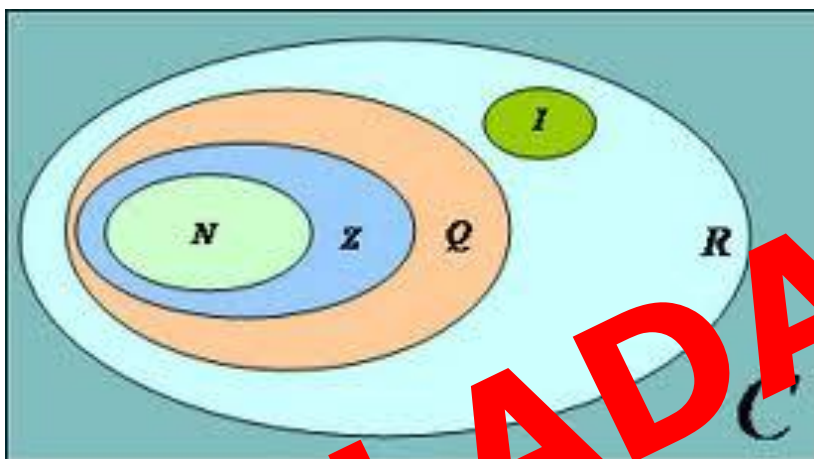


### QUESTÃO 12

Circule o operário que está usando o martelo, em cima do telhado, do lado esquerdo da imagem.



QUESTÃO 13



Observe a imagem acima. O conjunto que contém todos os outros é:

**ANULADA**

**C      Q      R      Z**

QUESTÃO 14



Somando-se todas as pernas, mãos e cabeças da imagem acima, obtêm-se um total de:

**ANULADA**

**125      140      150**





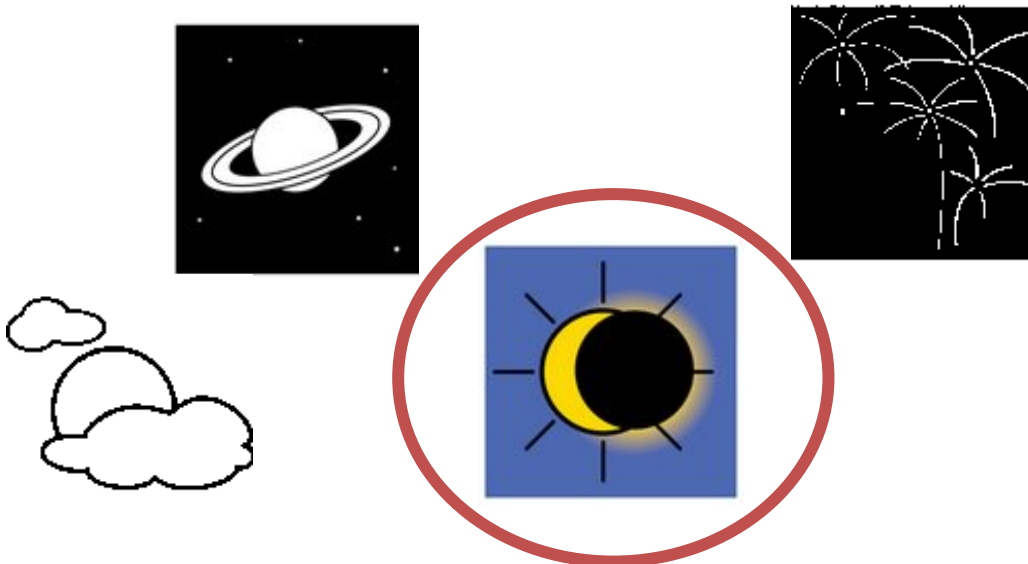
### QUESTÃO 17

Circule a sexta pessoa da esquerda para a direita. Esta pessoa está de vestido.



### QUESTÃO 18

Circule a opção que representa um eclipse do SOL.



### QUESTÃO 19

Observe a imagem abaixo. Circule o anão que está no ponto mais alto.



### QUESTÃO 20

Os conjuntos abaixo são formados com os mesmos elementos.  
Circule o conjunto que possui um elemento diferente dos demais.

