

JMS TECNOLOGIA E SERVIÇOS LTDA

SÓ ABRA QUANDO AUTORIZADO

OPERADOR DE MÁQUINAS PESADAS

INSTRUÇÕES

Esta prova contém 20 questões de múltipla escolha.

AO RECEBÊ-LA, VERIFIQUE A SEQUÊNCIA NUMÉRICA DAS QUESTÕES.

Caso esteja incompleto, comunique imediatamente ao fiscal de sala para que este tome as medidas cabíveis.

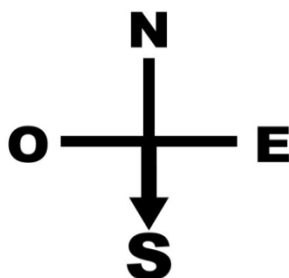
As respostas deverão ser CIRCULADAS, de forma clara e a caneta.

- Circule somente uma alternativa em cada questão.
- A prova deverá ser entregue ao Fiscal de Prova. Antes de entregar, verifique se todas as questões estão com resposta e à caneta.
 - Sua resposta não será computada se houver marcação indevida.
- Em caso de rasura, respostas em branco ou a lápis, a questão será desconsiderada.
- Leia, com atenção, cada questão da prova e não deixe nenhuma sem resposta.
 - Faça a prova com calma.
 - Duração desta prova: Três horas.

Boa Sorte!

Nº INSCRIÇÃO:
NOME DO CANDIDATO:
ASSINATURA:

QUESTÃO 01



Considerando que “N” significa Norte, “E” significa leste, “S” significa Sul e “O” significa oeste, a seta acima está apontando para:

SUL


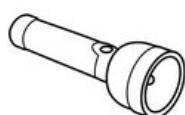
NORTE

LESTE

OESTE

QUESTÃO 02

Circule o único objeto que não precisa de energia elétrica para iluminar.




QUESTÃO 03

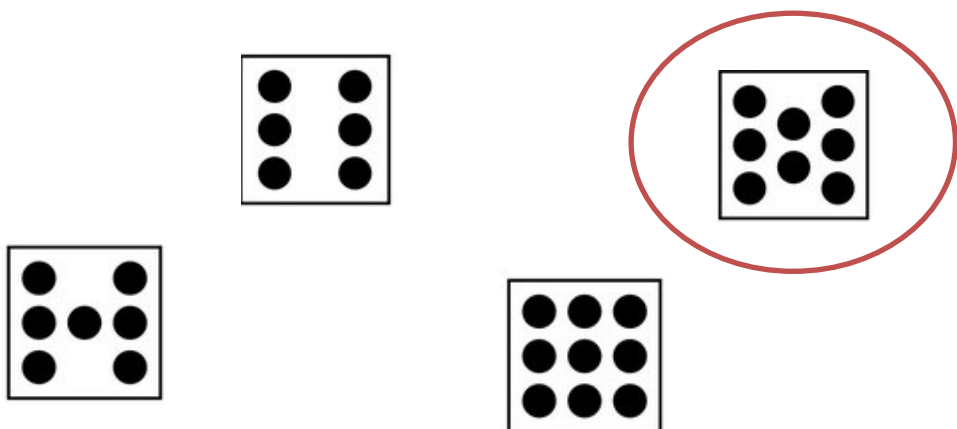
Circule o sinal que usamos no final de uma PERGUNTA:



QUESTÃO 04




Circule a imagem cuja quantidade de bolinhas é o DOBRO da imagem acima.




QUESTÃO 05

Qual dos profissionais abaixo é responsável pela SEGURANÇA?



QUESTÃO 06

Circule a opção cuja planta é característica do deserto:



QUESTÃO 07



Considerando que cada vela do bolo acima representa meia dúzia de anos, qual a idade do aniversariante?

45

09

108

90

54

QUESTÃO 08

Circule figura diferente das DEMAIS.




QUESTÃO 09

Circule a imagem que corresponde a um VOLANTE de carro.




QUESTÃO 10

Circule a pessoa que está fantasiada de ÍNDIO:




QUESTÃO 11

Circule o relógio que está marcando 11 horas e quarenta minutos.

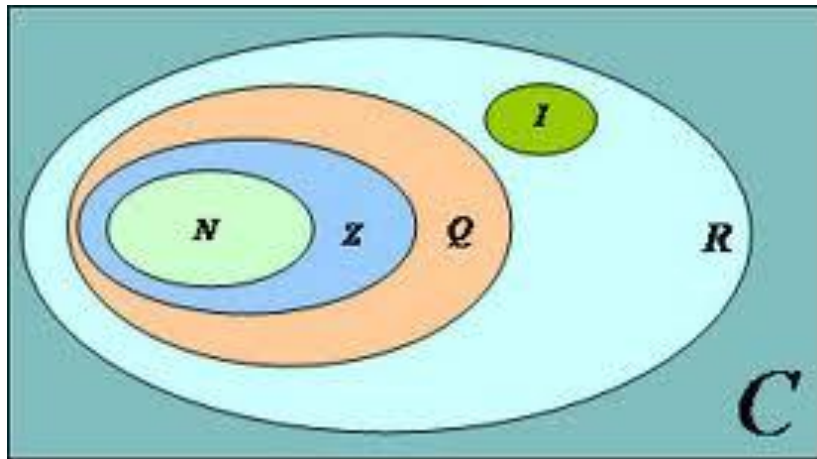


QUESTÃO 12

Circule o operário que está usando o martelo, em cima do telhado, do lado esquerdo da imagem.



QUESTÃO 13



Observe a imagem acima. O conjunto que contém todos os outros é:

C **Q** **R** **Z**

QUESTÃO 14



Somando-se todas as pernas, braços e cabeças da imagem acima, obteremos um total de:

125 **140** **150**

QUESTÃO 15

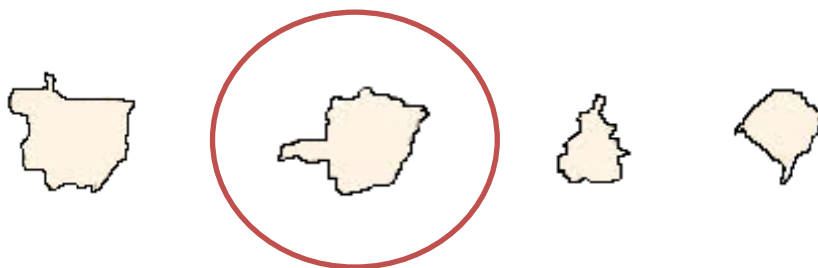
Circule o número ímpar maior do que '3' e menor do que '6'.



QUESTÃO 16



Tomando como base a imagem acima, circule dentre as figuras abaixo a que corresponde ao estado de Minas Gerais



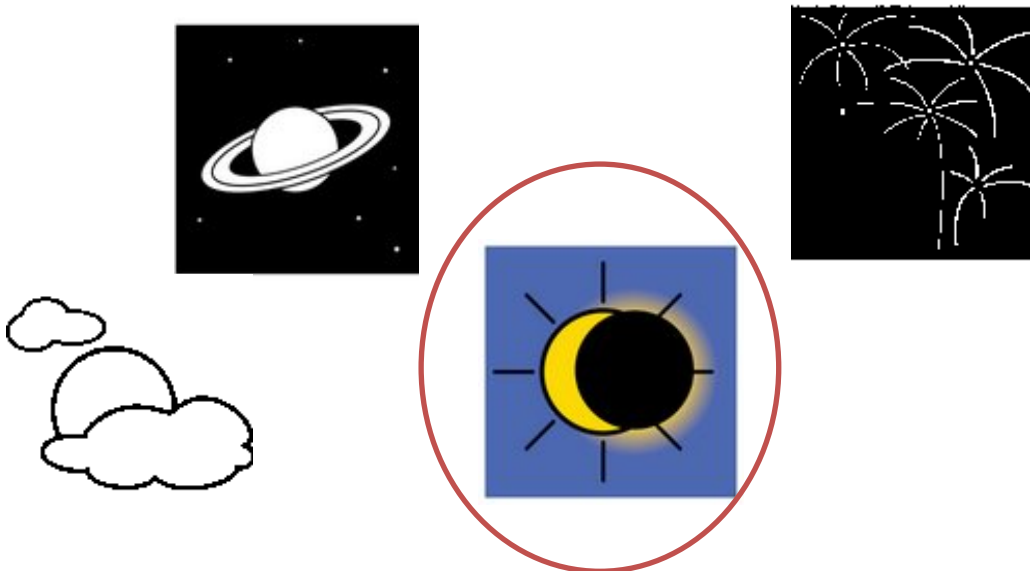
QUESTÃO 17

Circule a sexta pessoa da esquerda para a direita. Esta pessoa está de vestido.



QUESTÃO 18

Circule a opção que representa um eclipse do SOL.



QUESTÃO 19

Observe a imagem abaixo. Circule o anão que está no ponto mais alto.



QUESTÃO 20

Os conjuntos abaixo são formados com os mesmos elementos.
Circule o conjunto que possui um elemento diferente dos demais.

