

JMS TECNOLOGIA E SERVIÇOS LTDA

SÓ ABRA QUANDO AUTORIZADO

AUXILIAR DE SERVIÇOS GERAIS

INSTRUÇÕES

Esta prova contém 20 questões de múltipla escolha.

AO RECEBÊ-LA, VERIFIQUE A SEQUÊNCIA NUMÉRICA DAS QUESTÕES.

Caso esteja incompleto, comunique imediatamente ao fiscal de sala para que este tome as medidas cabíveis.

As respostas deverão ser CIRCULADAS, de forma clara e a caneta.

-Circule somente uma alternativa em cada questão.

-A prova deverá ser entregue ao Fiscal de Prova. Antes de entregar, verifique se todas as questões estão com resposta e à caneta.

- Sua resposta não será computada se houver marcação indevida.

-Em caso de rasura, respostas em branco ou a lápis, a questão será desconsiderada.

-Leia, com atenção, cada questão da prova e não deixe nenhuma sem resposta.

- Faça a prova com calma.

- Duração desta prova: Três horas.

Boa Sorte!

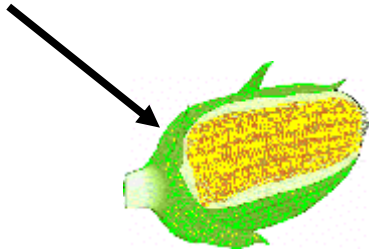

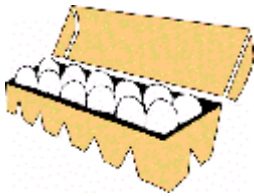
Nº INSCRIÇÃO:

NOME DO CANDIDATO:

ASSINATURA:




QUESTÃO 01

Qual alimento abaixo não é de origem animal?



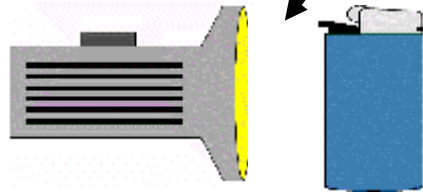
QUESTÃO 02

Qual relógio está marcando 17:55 horas?



QUESTÃO 03

Em qual das opções não há relação direta entre os pares de figuras?



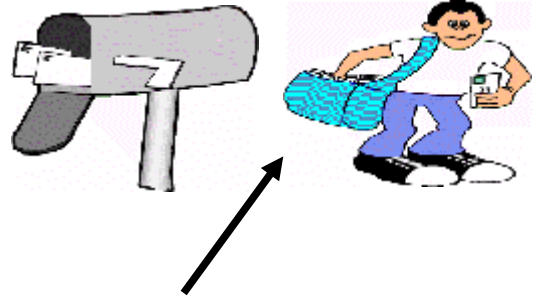
QUESTÃO 04

Marque o profissional que trabalha na construção civil.




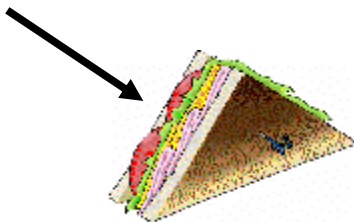
QUESTÃO 05

Em qual das opções há relação direta entre os pares de figuras?



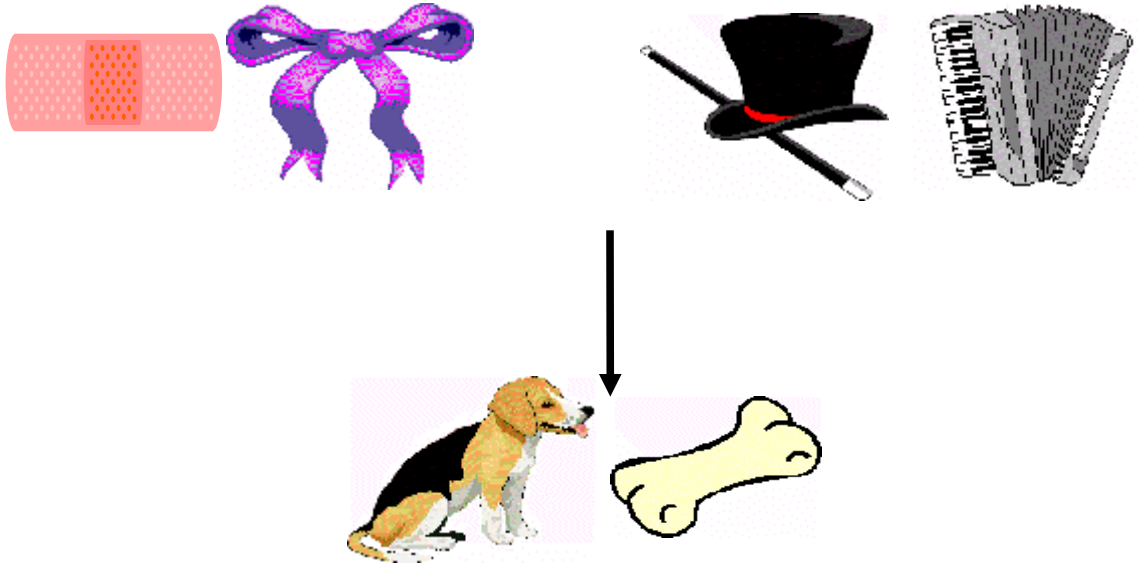
QUESTÃO 06

Marque o alimento cuja consistência não seja líquida.



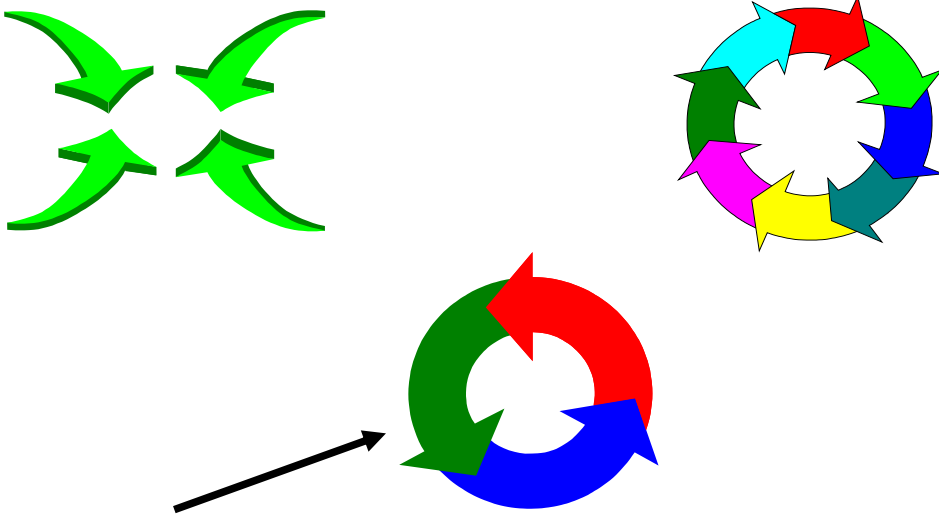
QUESTÃO 07

Em qual das opções existe relação direta entre as figuras?




QUESTÃO 08

Qual das figuras apresenta o menor número de setas?



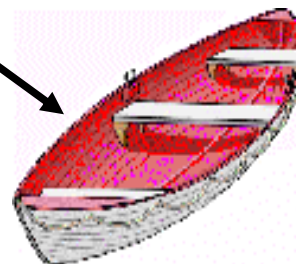
QUESTÃO 09

Qual dos veículos apresentados é, em tamanho real, o maior?






QUESTÃO 10

A que figura se relaciona o verbo REMAR?




QUESTÃO 11

Qual dos animais não é aquático?



QUESTÃO 12

Circule a pessoa IDOSA do sexo MASCULINO.



QUESTÃO 13

Para descobrir um número de um celular, é necessário que a soma de seus algarismos seja **EXATAMENTE 25**. Descubra qual dos celulares abaixo é o celular procurado.

8562 2720

8562 1415

9626 3030

8745 2017

9221 1415



QUESTÃO 14

A - A - A - B - G - O - U

Reorganizando as letras acima, obteremos o seguinte resultado:

BAGAÇO

GOIABA


AGUA BOA

AGUADO




QUESTÃO 15

Fiz uma compra no valor de R\$ 25,00 e paguei com uma nota de R\$ 100,00.
Obterei como troco:




QUESTÃO 16

Dos balões abaixo, geralmente encontrados em revistas em quadrinhos,
qual deles é usado para expressar PENSAMENTO?:





QUESTÃO 17

Assinale a associação **INCORRETA**:




QUESTÃO 18

Um dos elementos abaixo é capaz de iluminar sem precisar de energia elétrica nem combustível. **CIRCULE-O**



QUESTÃO 19

O símbolo que representa PERIGO É:



QUESTÃO 20

Em qual das construções abaixo é possível acomodar um **MAIOR** número de pessoas?

